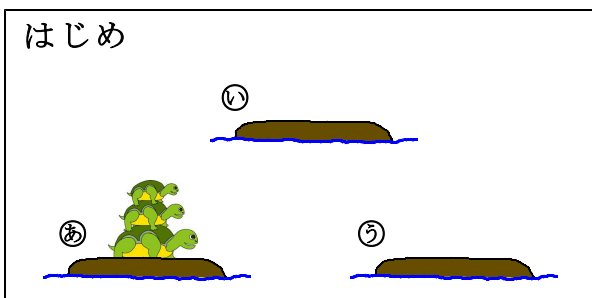


『親がめ，子がめ，孫がめ』

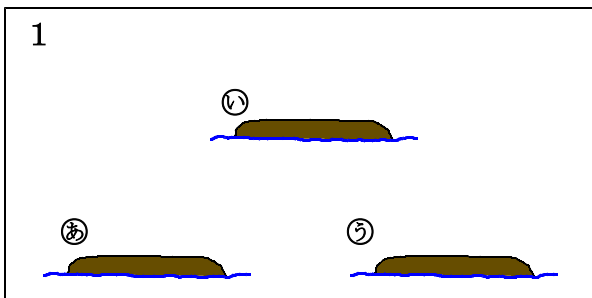
ねん 年 なまえ 名前

親がめの背中に子がめ，子がめの背中に孫がめが乗っています。
 ⑥の島にいる3びきのかめを，1びきずつ別の島に動かして，3びきとも①の島に移すには，どんな順序で動かせばよいでしょう。
 ただし，小さいかめの上に，大きいかめを乗せることはできません。

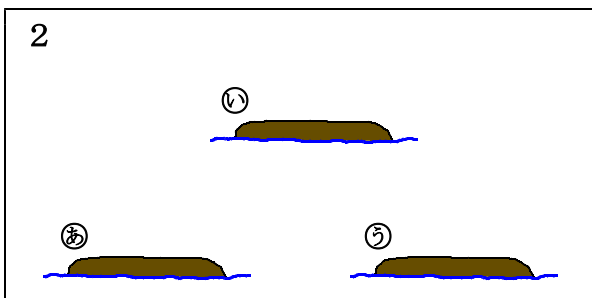
- 【学習の進め方】
- ① まず，紙チップ（親〈大チップ〉，子〈中チップ〉，孫〈小チップ〉）を使って考えてみましょう。
 - ② 上級生の前で，7回で動かしてみせましょう。
 - ③ OKがもらえたら，プリントに書きましょう。



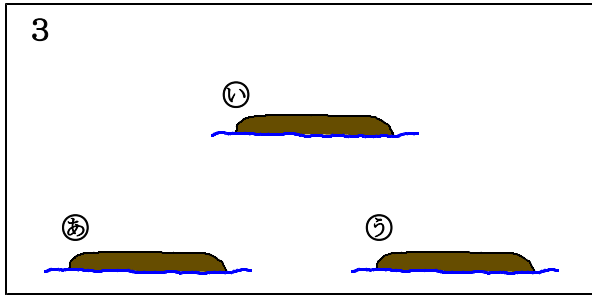
_____がめを_____の島へ動かします。



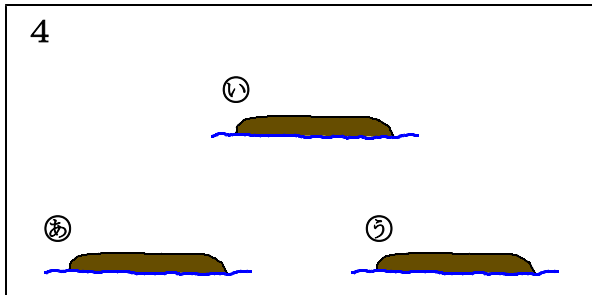
_____がめを_____の島へ動かします。



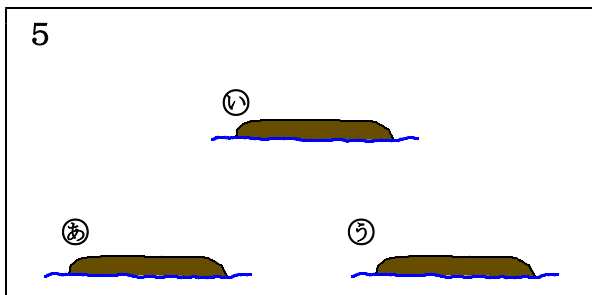
_____がめを_____の島へ動かします。



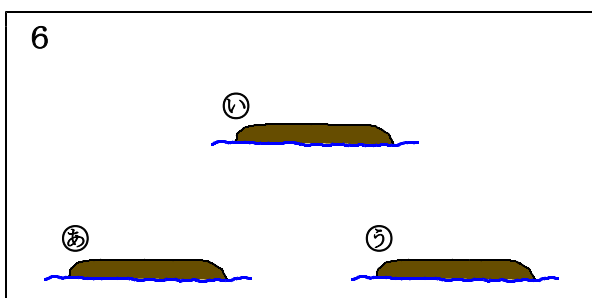
_____がめを_____の島へ動かします。



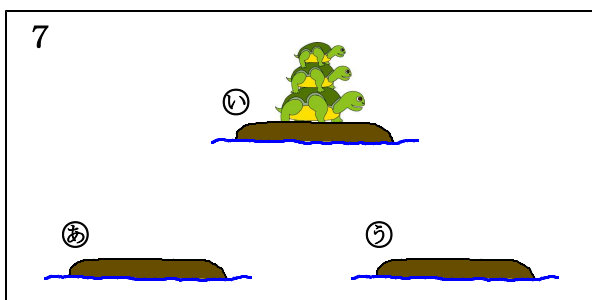
_____がめを_____の島へ動かします。



_____がめを_____の島へ動かします。



_____がめを_____の島へ動かします。



こうすれば、3びきとも①の島に移すことができます。